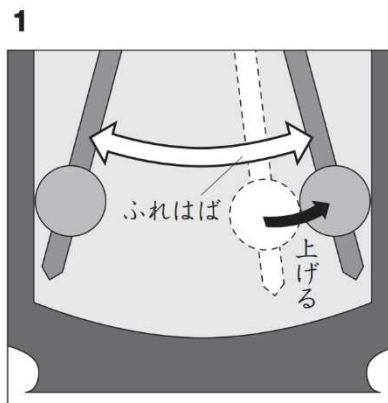
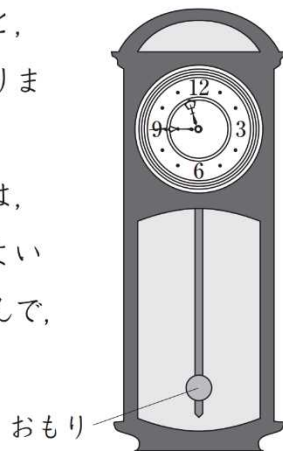


振り子の運動②	年	組	名前
---------	---	---	----

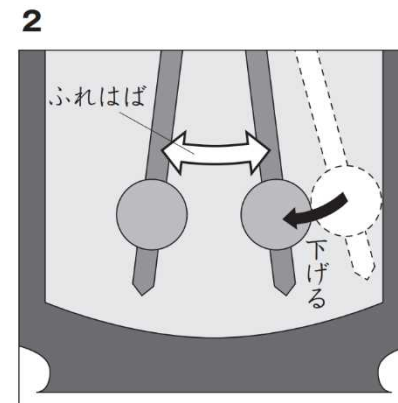
H27 1 (2)

(2) 調べた結果, おもりの位置を上下に動かすと, ふりこの1往復する時間が変わることがわかりました。

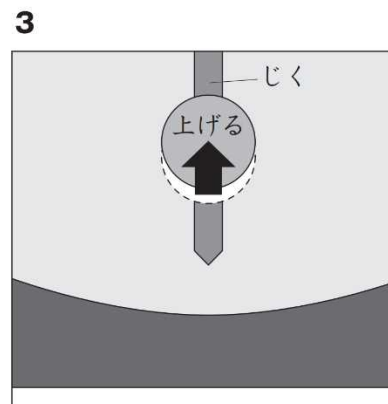
ふりこ時計がおくれないようにするためには, ふりこ時計のおもりをどのように調整するとよいですか。右の 1 から 4 までの中から1つ選んで, その番号を書きましょう。



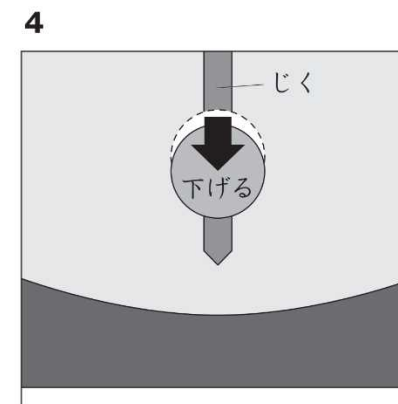
おもりの動き始めの位置を上げて, ふれはばを大きくする。



おもりの動き始めの位置を下げて, ふれはばを小さくする。



おもりをじくに沿って上げる。



おもりをじくに沿って下げる。