

# 気象観測3 解答

年

組

名前

H27 2 (1) (2)

若菜さんの学級では、先生が飛行機に乗ったときに撮影した写真や天気図などの資料をもとに気象について学習しました。

(1)から(4)までの各問いに答えなさい。



### 資料1 (S島に関すること)

- 図1は、1月24日に南側から撮影したS島の写真。
- 図2は、S島を撮影したときの天気図。
- 図3は、S島を撮影したときの、風の吹く方向に沿ったS島の断面図。
- 表は、S島の1月23日から1月25日までの1日の平均気温と1日の平均湿度の記録。




図1

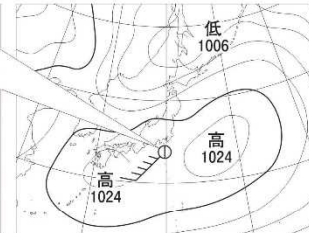


図2

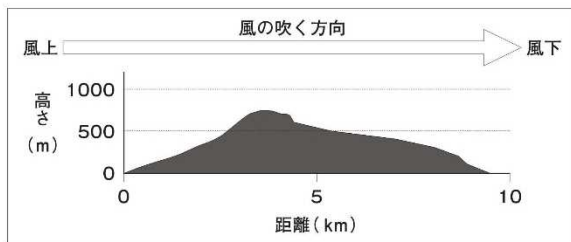


図3

表

月 日	1月23日	1月24日	1月25日
1日の平均気温(℃)	5.9	9.2	12.6
1日の平均湿度(%)	66	71	64

(1) 図2で示されているS島における風力を書きなさい。

(2) 図2で示されているS島における風向を、図4の風向計を用いて観測したとき、風向計を真上から見たものとして最も適切なものを、下のアからエまでのの中から1つ選びなさい。


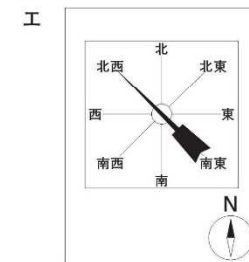
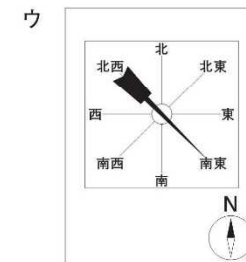
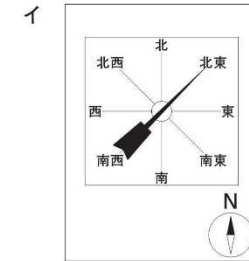
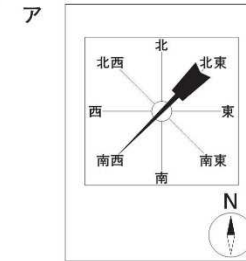


図4



(1)

5

(2)

ア