

身の回りの生物① 解答	年	組	名前
----------------	---	---	----

R4 **1** (1)


**1**

ひろしさんたちは、ナナホシテントウのたまごを見つけました。

ひろしさんは、次のような【問題】を解決するために、ナナホシテントウを飼育しながら観察し、ようすが変化したときに、タブレット型たん末に記録していくことにしました。

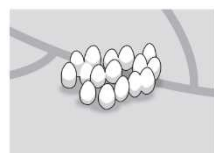
**【問題】**

「ナナホシテントウの育ち方は、どのような順なのだろうか。」



ひろしさん

ナナホシテントウの観察  
5月16日 晴れ 23℃




- ・葉の裏にたまごがある。
- ・たまごは、まとまっていて、黄色で、大きさは1mmぐらい。
- ・たまごは、細長い形をしている。

(1) ほかの人たちも、それぞれ次のような【問題】を解決するために、ナナホシテントウを観察し、記録しています。

**【問題】**


「ナナホシテントウは、こん虫なのだろうか。」



みどりさん

**【問題】**


「ナナホシテントウは、どんなどころをすみかにしているのだろうか。」



なつこさん

**【問題】**

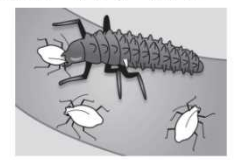
「ナナホシテントウは、ようちゅう幼虫からせいちゅう成虫になるまでに、食べ物は変わるのだろうか。」



あきらさん

下の記録は、だれが記録したものと考えられますか。下の **1** から **4** までの中から1つ選んで、その番号を書きましょう。

ナナホシテントウの観察  
5月23日 くもり 25℃



- ・たまごからかえて4日目。
- ・幼虫が、一度皮をぬいだ。
- ・アブラムシを食べている。

**考えたこと**

今も、アブラムシを食べているから、皮をくり返しぬいでも、アブラムシを食べると思う。

- 1** ひろしさん
- 2** みどりさん
- 3** なつこさん
- 4** あきらさん

4