

地層の重なりと過去の様子4 解答

年

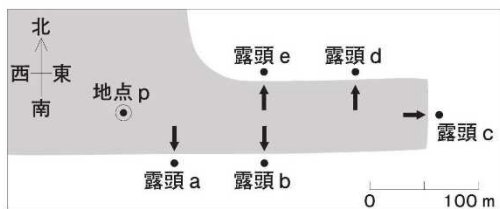
組

名前

H24 3 (3)

観察2 図1は、観察する5つの露頭aからeの場所を表した模式図です。

はじめに地点pに行き、全体の様子を観察しました。図2は、地点pから東の方向を見たようすを表したものです。この観察地の特徴について、先生から次のことを教えてもらいました。



※ 矢印は、それぞれの露頭の前で観察した向きを示している。

図1

この観察地の地層は同じ向きに傾いていて、断層やしゅう曲はありません。また、5つの露頭で囲まれた地面は水平です。露頭aの一番上に見える地層はローム層です。この観察地のローム層は、火山灰などが風化したものです。




図2

イ

理由 (例)

- ・〔1つの〕ローム層と1つの凝灰岩層が見られるから。
- ・〔1つの〕ローム層が見られ、4つの路頭に見られる凝灰岩層はつながった同一の地層であり、1つの凝灰岩層が見られるから。

その後、露頭の観察を行いました。図3は、図1の矢印で示した向きに観察したそれぞれの露頭のようすを表したものです。

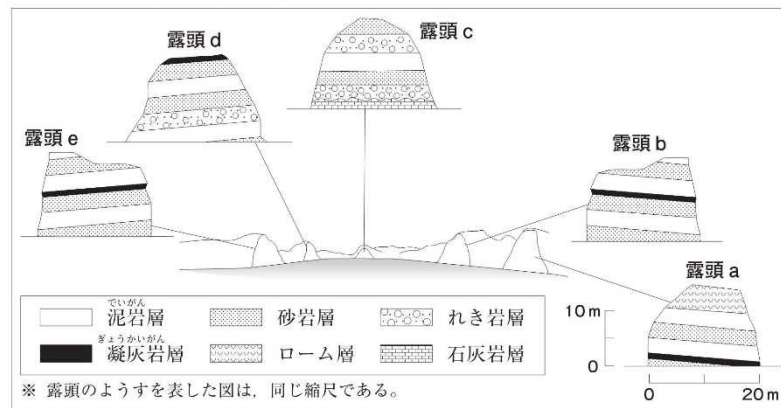


図3

考察2



賢さん

この観察地の露頭には、1つのローム層と4つの凝灰岩層が見られるので、これらの地層が堆積した期間には、火山活動が活発だった時期が少なくとも5回あったと考えられます。

「少なくとも5回」と考えるのは誤りです。もう一度、地層のつながりから考えてみましょう。



先生

(3) 火山活動が活発だった時期の回数は、少なくとも何回と考えられますか。最も適切なものを下のアからオまでの中から1つ選びなさい。また、回数をそのように考えた理由を書きなさい。

ア 1回 イ 2回 ウ 3回 エ 4回 オ 6回